

## GUIAS DE APRENDIZAJE ESTRATEGIA: “ESCUELA EN CASA”

Área: SOCIALES - GEOGRAFÍA

GUÍA N° 4

**DBA # 2:** Comprende las ventajas que tiene para Colombia su posición geográfica y astronómica en relación con la economía nacional.

**TEMA: POSICIÓN GEOGRÁFICA Y ASTRONÓMICA DE COLOMBIA.**

**OBJETIVO DE APRENDIZAJE:** Identificar la posición geográfica y astronómica del país mediante mapas temáticos.

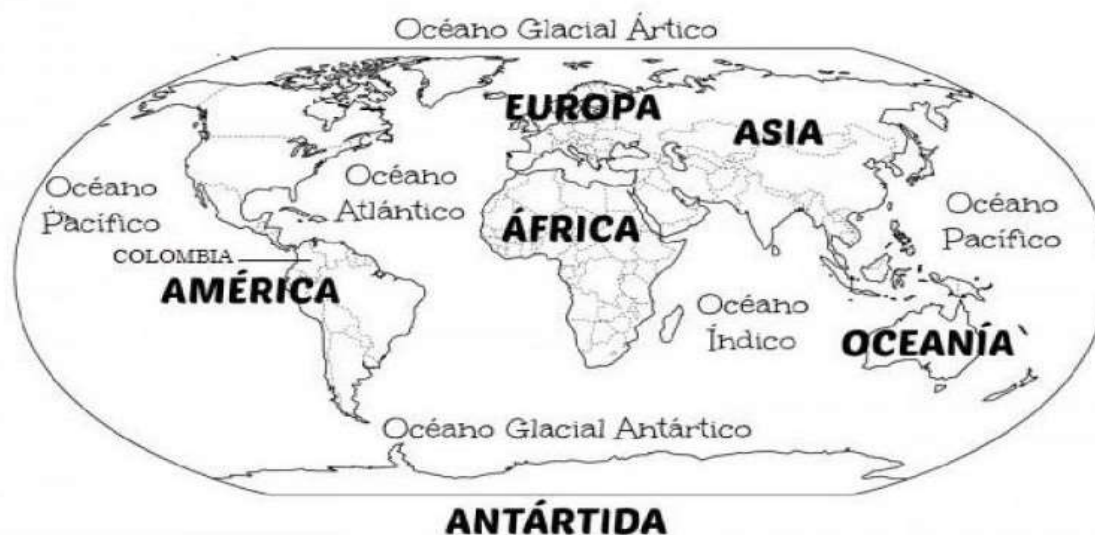


### ¿QUÉ VOY A APRENDER?

El territorio de Colombia es bello y diverso: posee cordilleras, valles, costas, llanuras, selvas y desiertos. Este espacio geográfico alberga una enorme riqueza natural y humana.

Ubica a Colombia en este mapamundi y luego responde:

1. ¿En qué continente se encuentra?
2. ¿Con quién limita Colombia al norte?
3. ¿Con quién limita Colombia al sur?
4. ¿Con quién limita Colombia al oriente?
5. ¿Con quién limita Colombia al occidente?
6. ¿Cuál es la posición geográfica de Colombia en América?





## LO QUE ESTOY APRENDIENDO

Colombia está ubicada en el centro del continente americano, específicamente en la esquina noroccidental de Suramérica, sirviendo como unión entre Centroamérica y Suramérica. La posición geográfica de Colombia es incomparable, pues está bañado por dos océanos, el Atlántico y el Pacífico; además cuenta con numerosos ríos y se beneficia de su ubicación sobre la cuenca del mar Caribe.

### Posición geográfica de Colombia.

Para determinar la posición geográfica de un país, debemos decir en qué continente está ubicado, en qué punto cardinal se encuentra y con qué países o elementos naturales limita. La posición geográfica de Colombia favorece actividades económicas en nuestro país como el comercio internacional, la pesca y el turismo.

Por la parte sur del país cruza el paralelo 0° o del Ecuador. Esto quiere decir que la mayoría del territorio se extiende en el hemisferio norte y en un sector en el sur.

Colombia cuenta con una posición geográfica privilegiada debido a que:

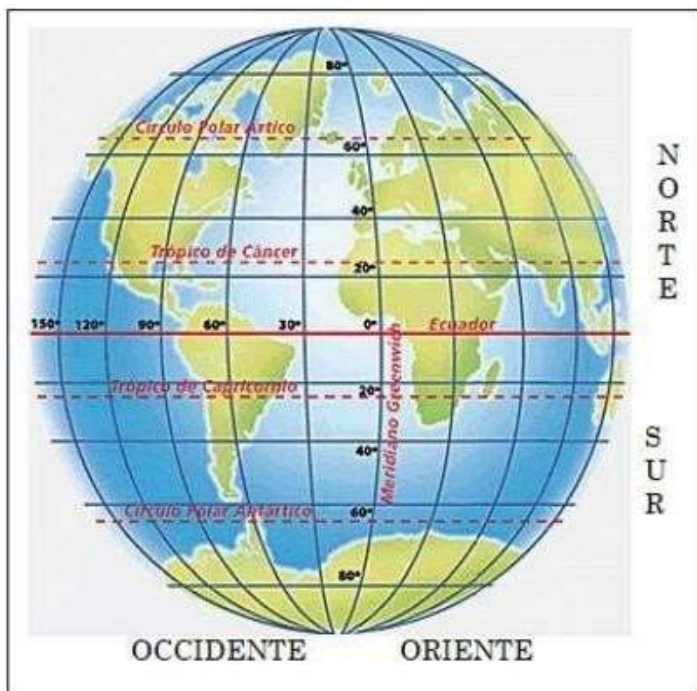
- No presenta estaciones; si no períodos de lluvia y sequía.
- Conecta norte y centro América con el resto de Suramérica.
- Posee dos océanos y la posibilidad de construir más puertos.
- Está muy cerca del canal interoceánico de Panamá.

Esta posición le permite conectarse por vía terrestre con Centroamérica y Suramérica y tener conexión marítima con Europa, Asia y Oceanía. Un país bien posicionado. Gracias a su ubicación geográfica, Colombia presenta ciertas características ambientales muy particulares:

- Es el segundo país con mayor diversidad en el mundo.
- Posee diversidad de flora y fauna.
- Posee diferentes especies de animales.
- Presencia de páramos.



Entonces podemos observar su posición geográfica y describirla de la siguiente manera:



### La posición geográfica

Ubicación: Esquina  
**noroccidental** de América del sur o  
Suramérica, sobre la línea  
ecuatorial en la zona tórrida.

Limita al **norte** con: el mar Caribe.

**Sur** con Perú y Ecuador.

**Oriente** con Venezuela y  
Brasil.

**Occidente** con Océano  
Pacífico.

### Posición astronómica de Colombia.

La posición astronómica permite localizar un lugar en la superficie de la tierra. Para determinar esta posición, se tiene en cuenta la ubicación en el mundo respecto a la latitud y la longitud y los puntos extremos del territorio.

Según la **latitud**, la mayor parte del territorio nacional se localiza en el hemisferio Norte y una mínima parte en el hemisferio sur. Por esta razón, nuestro país tiene tierras en la latitud Norte y tierras en la latitud Sur.

Según la **longitud**, todo el territorio se encuentra en el Occidente del meridiano de Greenwich. Por esta razón su longitud es Occidental.

## Los puntos extremos de Colombia

Los puntos extremos son los lugares donde se encuentra el límite máximo del territorio colombiano. Estos se ubican teniendo en cuenta los puntos cardinales, la latitud y la longitud.

Los puntos extremos de Colombia son:

Al Norte: Punta Gallinas

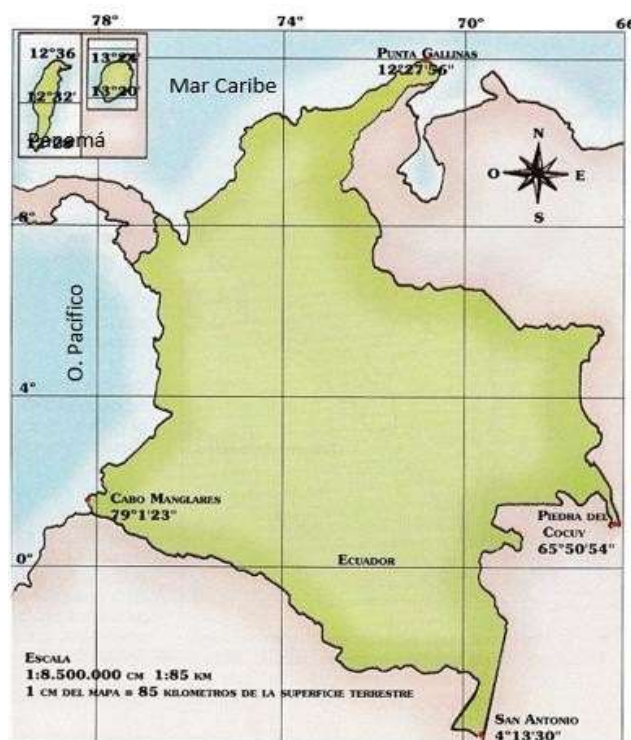
Al Sur: la desembocadura de la quebrada de San Antonio.

Al Oriente: la Piedra del Cocuy.

Al Occidente: el Cabo Manglares.

Punto Cardinal	Punto Extremo	Posición Astronómica
Norte	<b>Punta Gallinas</b>	12° 26' 46" de latitud norte
Sur	<b>Quebrada San Antonio</b>	4° 12' 30" de latitud sur
Occidente	<b>Cabo Manglares</b>	79° 02' 33" De longitud occidental
Oriente	<b>Isla San José</b>	60° 50' 54" De longitud oriental

Por lo tanto, para establecer la posición astronómica del país se determina la latitud de sus puntos extremos al Norte y sus puntos extremos al Sur. También, la longitud de sus puntos extremos al Oriente y en el mismo sentido al Occidente. Observar el cuadro.







## PRACTICO LO QUE APRENDI DESDE MI ENTORNO

De acuerdo a lo que aprendiste en la guía de aprendizaje resuelve estas actividades para afianzar los conocimientos de la unidad. Recuerda que puedes pedirles a tus papitos que orienten el trabajo.

### I. Utiliza las palabras del recuadro y completa los enunciados. Escríbelo en tu cuaderno de sociales.

Caribe – Pacífico / Norte – Sur / Suramérica / Hemisferio Occidental - Americano / Ecuador

- a. Nuestro país se ubica en el \_\_\_\_\_ y hace parte del continente \_\_\_\_\_.
- b. Colombia se localiza en el extremo noroccidental de \_\_\_\_\_.
- c. Por esta razón Colombia posee dos costas, una en el mar \_\_\_\_\_ y la otra en el océano \_\_\_\_\_.
- d. Por la parte sur cruza el paralelo 0° o paralelo del \_\_\_\_\_.
- e. Si la línea del Ecuador pasa por el sur, podemos decir que el territorio colombiano se encuentra una parte sobre el hemisferio \_\_\_\_\_ y la otra en el hemisferio \_\_\_\_\_.

### II. Escriba los puntos extremos de Colombia, teniendo en cuenta los puntos cardinales, la latitud y la longitud. Práctico su ubicación en el mapa, dibújalo



### III. Escribe falso (F) o verdadero (V), frente a cada afirmación, según corresponda en el cuaderno de sociales.

- a. Gracias a la posición geográfica de nuestro país, Colombia cuenta con territorio solamente en el hemisferio norte.....( ) .
- b. El territorio colombiano es el punto de unión entre Suramérica y Centroamérica.....( ) .
- c. Brasil y Colombia son los dos únicos países de Suramérica que cuentan con dos océanos: el Pacífico y el Atlántico.....( )
- d. Colombia, tiene una posición privilegiada en América del Sur, una ventaja es que le

permite tener conexión marítima con Europa, Asia y Oceanía.....( )

e. Teniendo en cuenta la longitud, todo el territorio colombiano se encuentra en el hemisferio oriental.....



### ¿QUÉ APRENDÍ?

Responde con sinceridad cada uno de los aspectos.

	ASPECTOS	SI	NO
1.	Reconozco la posición geográfica de Colombia.		
2.	Reconozco la posición astronómica de Colombia.		
3.	Identifico los puntos extremos de nuestro país.		
4.	Tuve dificultad para aprender el tema?		

### BIBLIOGRAFIA

Relaciones Ciencias Sociales Quinto Grado. Editorial libros & Libros S.A.

Ciencias Sociales En Red Cuarto grado. Editorial S&M

### WEBGRAFÍA

<https://www.pinterest.es/pin/379780181053048840/>

<https://www.todacolombia.com/geografia-colombia/ubicacion-geografica.html>

<https://www.socialhizo.com/geografia/mapas/mapa-de-colombia-puntos-extremos>

[https://es.123rf.com/photo\\_21801402\\_ubicaci%C3%B3n-de-colombia-en-el-continente-de-am%C3%A9rica-del-sur.html](https://es.123rf.com/photo_21801402_ubicaci%C3%B3n-de-colombia-en-el-continente-de-am%C3%A9rica-del-sur.html)